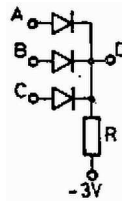
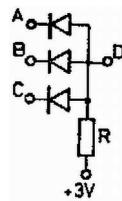


Határozzuk meg az *a)* és *b)* ábrán látható *D* ponton megjelenő feszültséget, ha a bemenetre a *c)* ábrán látható jeleket adjuk!

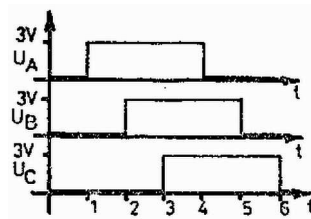
Hol használnak ilyen kapcsolásokat a gyakorlati életben?



*a) ábra*



*b) ábra*



*c) ábra*