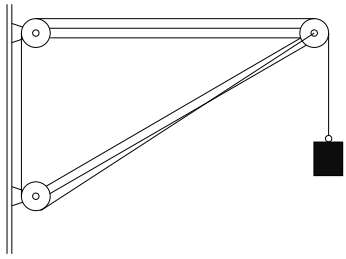
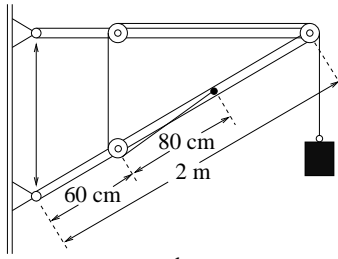


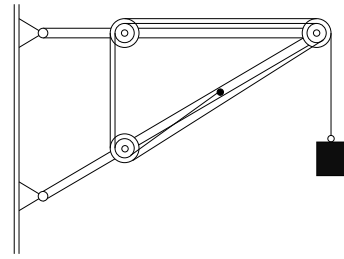
Mekkora erők lépnek fel az *ábra* szerinti fali konzolok rúdjaiban, ha a teher 150 kp? (Súrlódás nincs, a kötélt és a rudak súlytalannak tekinthetők.)



a.



b.



c.