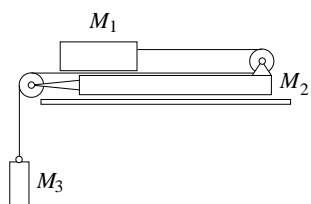
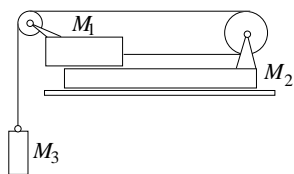


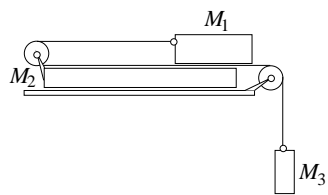
Mekkora gyorsulások lépnek fel az ábra szerinti elrendezésekben és mekkora a kötélterő? (Lásd a KML 411. fizika feladatát!) (Az összes felületek tökéletesen simák.)



a.



b.



c.