

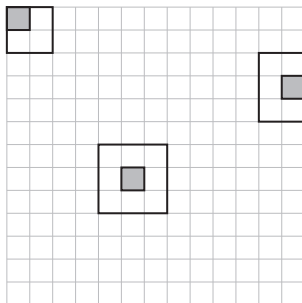
Megoldás. A kérdésre adandó válasz attól függ, hogy a saktábla oldalhossza, amit a továbbiakban n -nel jelölünk, 3-mal osztva mennyi maradékot ad.

Egy pozitív egész számot nevezünk *szépnek*, ha 3-mal osztva 1 maradékot ad. Az $n \times n$ -es saktábla sorait és oszlopaít is számozzuk meg sorban 1-től n -ig, és egy sort, illetve oszlopot nevezünk *szépnek* akkor, ha sorszámá szép. Egy mező legyen *szép*, ha sor- és oszlopindexe is szép, *átlagos*, ha sor- és oszlopindexe közül pontosan az egyik szép, egyébként pedig *csúnya*.

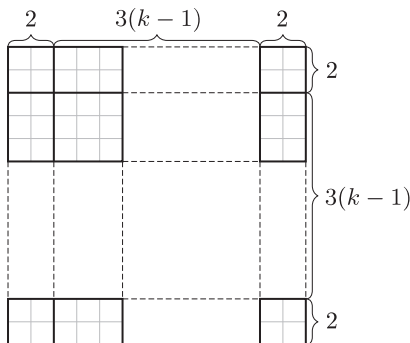
Tegyük fel, hogy $n = 3k + 2$ alakú, ahol $k \geq 0$ egész. Ha Aranka éppen a szép mezőket választja ki, akkor minden mezőre 1-et ír, akárcsak abban az esetben, ha azokat a mezőket választja ki, amelyeknek sor- és oszlopindexe is 2 maradékot ad 3-mal osztva. Ezért ha $(3k + 2) \times (3k + 2)$ -es (speciálisan 2009×2009 -es) táblán játszanak, akkor van olyan eset, amikor Bianka nem tudja meghatározni az Aranka által kiválasztott mezőket.

Megmutatjuk, hogy ha viszont n szép, akkor $n \times n$ -es (speciálisan 2008×2008 -as) tábla esetén Bianka mindig egyértelműen meg tudja mondani, hogy mely mezőket választotta ki Aranka. A saktábla egy részét nevezük *kiszámolhatónak*, ha Bianka ki tudja számolni, hogy az adott rész összesen hány kiválasztott mezőt tartalmaz. Azt kell megmutatnunk, hogy a saktábla egyetlen mezőből álló részei mind kiszámolhatók.

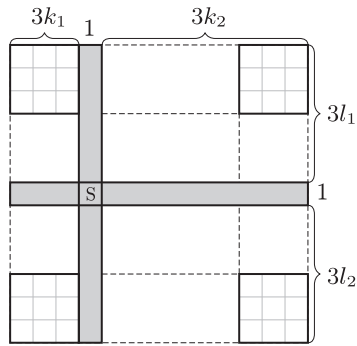
Nevezük *elemi téglalapnak* a saktábla 3×3 -as résztábláit, a vízszintes szélek mentén található 2×3 -as, illetve a függőleges szélek mentén található 3×2 -es résztáblákat, valamint a sarkokban elhelyezkedő 2×2 -es résztáblákat. Az 1. ábrán látható, hogy minden elemi téglalapnak van egy „közepe”, amelyre írt szám megegyezik azoknak a mezőknek a számával, amelyeket Aranka a szóban forgó elemi téglalapból kiválasztott. (Minden elemi téglalapban a „közep” az egyetlen olyan mező, amelyre írt szám értéke csak az elemi téglalap mezőinek kiválasztásától függ, míg az elemi téglalapok bármely más mezőjére írt számot már az elemi téglalapon kívül elhelyezkedő mezők kiválasztása is befolyásolja.) Tehát minden elemi téglalap kiszámolható. Mivel $n = 3k + 1$ szép, azért a teljes saktábla felbontható elemi téglalapokra a 2. ábrán látható módon. Tehát a teljes saktábla kiszámolható. Ebből következik, hogy a saktábla egy része pontosan akkor kiszámolható, ha a komplementere kiszámolható. Könnyen látható, hogy tetszőleges szép sor, illetve szép oszlop komplementere felbontható elemi téglalapokra, így a szép sorok és oszlopok kiszámolhatók. Tekintsünk egy szép mezőt. Ha az ezt tartalmazó sort és oszlopot is elhagyjuk, a megmaradt rész felbontható elemi téglalapokra (3. ábra). Ezért az adott mezőt tartalmazó sor és oszlop egyesítéséből álló „kereszt” kiszámolható. Ha a sorban lévő kiválasztott mezők számához hozzáadjuk az oszlopban lévő kiválasztott mezők számát, majd kivonjuk a keresztben lévő kiválasztott mezők számát, az eredmény pontosan akkor lesz 1, ha a „kereszt” közepe szerepel a kiválasztottak között. Ezért minden egyes szép mező kiszámolható.



1. ábra

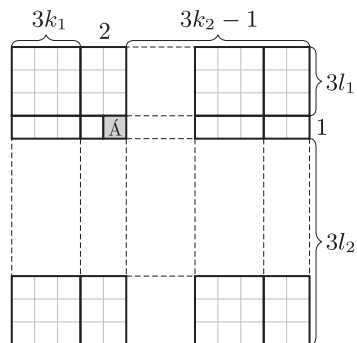


2. ábra



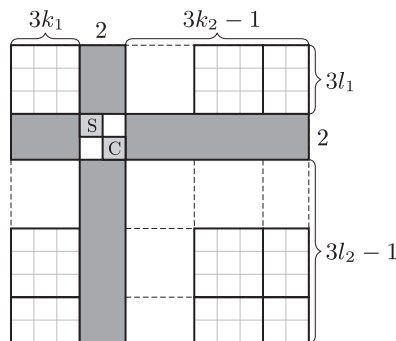
3. ábra

Most megmutatjuk, hogy minden átlagos mező is kiszámolható. A tábla átlóra vonatkozó szimmetriája miatt feltehetjük, hogy a mezőnek a sorindexe szép, vagyis a mező sora kiszámolható. A mező oszlopindexe 3-mal osztva 0 vagy 2 maradékot ad, ennek megfelelően vagy a tőle közvetlenül jobbra, vagy a tőle közvetlenül balra lévő oszlop szép. Tekintsük azt a dupla oszlopot, amely ebből a szép oszlopból és a mezőt tartalmazó oszlopból áll (4. ábra). Ennek a dupla oszlopnak a komplementere is felbontható elemi téglalapokra, vagyis a dupla oszlop kiszámolható. Hasonlóképpen, a dupla oszlop és a mezőt tartalmazó sor egyesítésével kapott kereszt is kiszámolható, ezek alapján pedig kiszámolható az az 1×2 -es téglalap is, amely a sor és a dupla oszlop metszeteként áll elő. Ez a téglalap a szóban forgó átlagos mező mellett még egy szép mezőt tartalmaz, amiről már tudjuk, hogy kiszámolható. Ezért a szóban forgó átlagos mező is kiszámolható.



4. ábra

Már csak azt kell igazolni, hogy a csúnya mezők is kiszámolhatók. Bármely ilyen mező sarkosan érintkezik egy szép mezővel, és ezek együtt egy olyan 2×2 -es négyzet két átellenes sarokmezőjét alkotják, melyben a másik két mező átlagos (5. ábra). Elég tehát azt megmutatnunk, hogy ez a 2×2 -es négyzet kiszámolható. Ez rögtön következik abból, hogy az őt tartalmazó dupla sor, dupla oszlop, és az e kettő egyesítéséeként kapott kereszt is kiszámolható, mert mindegyikük komplementere elemi téglalapokra bontható.



5. ábra

Ezzel beláttuk, hogy a táblázat valamennyi mezője kiszámolható és így azt is meg tudjuk mondani, hogy melyek a kiválasztott mezők.