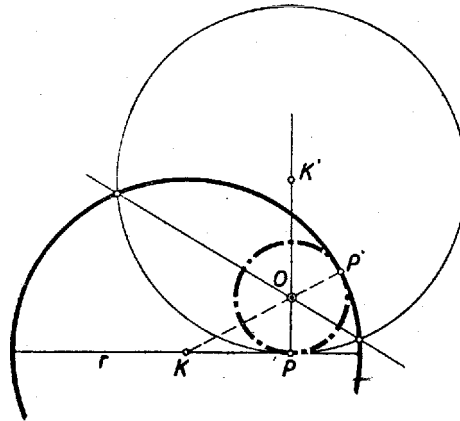


I. megoldás: Készítsünk vázlatot. Legyen az adott kör középpontja K , sugara r , a keresett érintő kör középpontja O . Ha e kör a P pontban érinti az adott kör ott átmenő átmérőjét, akkor egyben érint minden olyan kört is, amelyet az átmérő P -ben érint. Az átmérőt ezért egy – ezek közül alkalmasan választott – körrel helyettesíthetjük.



2. ábra

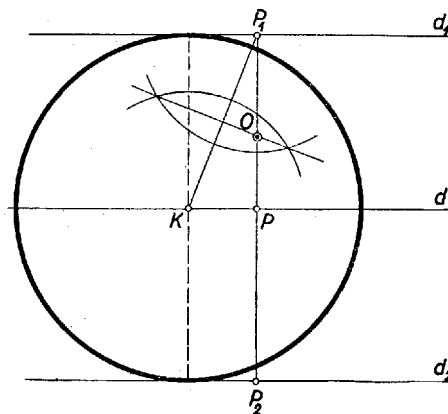
Célszerű lesz ezt a kört úgy választani, hogy az ábra szimmetrikussá váljék. Ez bekövetkezik, ha azt a kört rajzoljuk meg, amelynek sugara az adott kör sugarával egyenlő, és amelyet a keresett kör belülről érint a P pontban (2. ábra). Ezután az átmérőt el is hagyhatjuk. Ezzel az ábra teljesen szimmetrikussá válik. A keresett kör O középpontja rajta van az ábra szimmetria tengelyén, melyet a két egyenlő kör közös húrjaként szerkeszthetünk meg, és a P -n át megrajzolt segédkör P -hez vezető sugarán, amely nem más, mint a P -ben az átmérőre emelt merőleges.

A szerkesztés tehát a következőképpen végezhető: P -ben merőlegest emelünk az átmérőre, erre rámérjük az adott kör $PK' = r$ sugarát, és a K' végpontból e sugárral kört rajzolunk. Ennek az adott körrel való metszéspontjait összekötő egyenes metszi ki a P -ben emelt merőlegesből a keresett O pontot.

Valóban az O körül P -n át húzott kör érinti a P -n átmenő átmérőt, és belülről érinti a segédkört. Így az ábra szimmetriája miatt érinti az adott kört is P -ben (2. ábra).

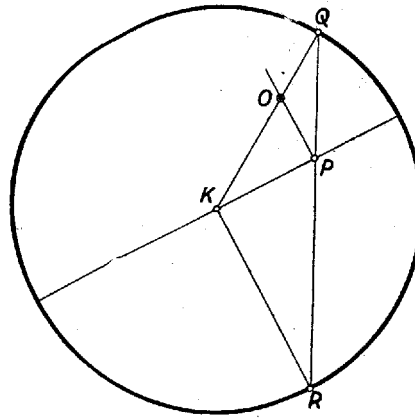
A segédkört az átmérő mindkét oldalán szerkeszthetjük, így a feladatnak két megoldása van, ha a P pont és az átmérő adva van. A feladat követelményei szerint P -n át átmérőt kell húzni, és azzal elvégezni a szerkesztést. Ezt az átmérőt P egyértelműen meghatározza, kivéve ha P a kör középpontja, amikor az átmérőt tetszés szerinti irányban húzható. Utóbbi esetben tehát a feladat határozatlan, minden más esetben két megoldása van. (A versenyzők egy része minden esetben határozottnak vélte a feladatot, ez azonban a középpont megadása esetében csak akkor állna fenn, ha az átmérő előre adott volna.)

II. megoldás: A feladat megoldására kínálkozik a körzsugorítás módszere. Miközben az adott kört a K ponttá zsugorítjuk, az érintő kör előbb ponttá zsugorodik, majd kívülről érintő körbe megy át, és növekszik. A P pont az átmérőre merőlegesen mozdul el, a K ponttá zsugorított kör sugarával P_1 -be (ill. P_2 -be). A d átmérő egy, a P_1 (ill. P_2) ponton átmenő, és az eredeti d -vel párhuzamos d_1 (ill. d_2) egyenesbe megy át (3. ábra).



3. ábra

Ezzel visszavezettük a feladatot adott K ponton átmenő, és adott d_1 egyenest adott P_1 pontjában érintő kör szerkesztésére, ami már ismert feladat. A keresett kör O középpontját úgy kaphatjuk, mint a keresett kör két adott pontját (K és P_1) összekötő egyenes felező merőlegesének és az adott d_1 érintőre a P_1 érintési pontban emelt merőlegesnek metszéspontját. Ez a pont egyben az eredeti feladatban keresett kör középpontja is.



5. ábra

A szerkesztés menete: Az adott kör K középpontjában az átmérőre állított merőleges egyik metszéspontja az adott körrel legyen R , és RP -nek a körrel való metszéspontja Q . Azt állítjuk, hogy KQ -nak és a P -ben az átmérőre emelt merőlegesnek O metszéspontja a keresett kör középpontja. Valóban az OPQ és KRQ háromszögek megfelelő oldalai párhuzamosak, és így megfelelő szögeik egyenlők. Az utóbbi háromszöggel együtt tehát az előbbi is egyenlő szárú:

$$OP = OQ.$$

Az O körül P -n át húzott kör tehát átmegy Q -n is, és mivel ez a pont a két kör KO centrálisán van, így a két kör ebben a pontban érintkezik.

Itt is két megoldást kapunk általában az átmérő két oldalán.