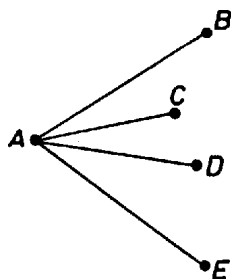


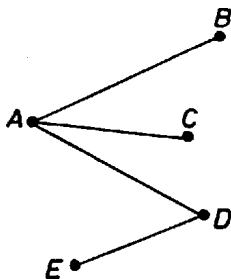
**I. megoldás.** Jelöljük a városokat  $A, B, C, D$  és  $E$ -vel. A négy szakasznak  $4 \cdot 2 = 8$  végpontja van. Mindegyik végpont valamelyik városhoz tartozik, ezért lesz olyan város, amelyikből egynél több vasútvonal-szakasz indul ki. Ennek megfelelően három esetet különböztetünk meg.



1. ábra

1. Egy városból – ábránkon ez a város  $A$  – négy vasútvonal indul ki. Mivel  $A$  szerepét bármelyik város játszhatja, 5 ilyen vasúthálózat lehetséges.

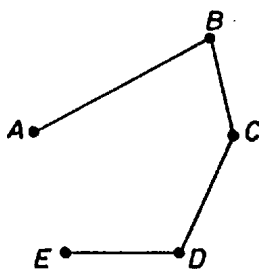
2. Egy városból – a 2. ábrán ez az  $A$  – három vasútvonal indul ki.



2. ábra

$E$  három szakasz  $A$ -tól különböző 3 végpontja közül valamelyik össze van kötve az ötödik várossal, ezért lesz egy olyan város is, amelyikből két szakasz indul ki. Azt a várost, amelyikből 3 vasútvonal indul ki, 5-féleképpen választhatjuk ki az 5 város közül, azt amelyikből 2 vonal indul ki 4-féleképpen, és a megmaradó 3-ból 3-féleképpen választható ki, hogy melyik lesz az előző mondatban említett „ötödik” város. Ez  $5 \cdot 4 \cdot 3 = 60$  eset.

3. Mindegyik városból legfeljebb 2 vasútvonal indul ki. Ezt az esetet rajzoltuk meg a 3. ábrán.



3. ábra

Ha egy ilyen vasúthálózat szakaszait egymáshoz csatlakozóan bejárjuk, az öt várost egy permutációjuk sorrendjében érintjük. Ezek száma  $5! = 120$ , de a vasúthálózat szempontjából pl. az  $ABCDE$  és az  $EDCBA$  hálózatok azonosak; ezért a különböző lehetőségek száma most  $\frac{1}{2} \cdot 5! = 60$ .

Összesen tehát  $5 + 60 + 60 = 125$  vasúthálózatot találtunk.

*Megjegyzés.* A feladat (és a megoldás) megfogalmazható a gráfelmélet terminológiájával is. Problémánk azt jelenti, hogy hányféle 5 szögpontú fa lehetséges, vagy általánosan: hányféle  $n$  szögpontú fa létezik.

**II. megoldás.** A feladat általános megoldása megtalálható Reiman István: A geometria és határterületei c. könyvének 318–319. oldalán. Az úgynevezett Cayley formula szerint az  $n$  csúcú fák száma  $n^{n-2}$ .