

Fizikai mozgások *

Bevezető

A valóságot gyakran fizikai modellel írjuk le, amit viszont matematikai módszerrel tanulmányozunk. A fizikai modellek sokszor *differenciál-* vagy *differencia-egyenletekre* vezetnek. Az utóbbiak tulajdonképpen speciális háttérű rekurziók.¹ Így a fizikai folyamatok számítógépes leírásakor rekurzióval megadott sorozatokkal kell számolnunk. Ebben a fejezetben két fizikai feladatot „oldunk meg” számítógéppel:

- leírjuk a lövedék mozgását légellenállás esetén, azaz a *ballisztikus görbét*;
- leírjuk a *bolygók mozgását* a Nap körül.

Azért választottuk éppen ezeket, mert középiskolai megoldásuk igen nehéz. Pontosabban fogalmazva, a Kepler törvények levezethetők középiskolai szakkörökön, de csak nehezen, a ballisztikus görbe középiskolai tárgyalása pedig lényegében értelmetlen lenne. Számítógépes megrajzoltatásuk viszont egyszerű.²

Fizikai mozgások leírása differencia-egyenletekkel

Választunk egy alap-időegységet: egy napot, egy órát, egy percet, ..., és az időt felosztjuk ilyen egységekre: $t = 0, 1, 2, \dots$. Csak ezekben az időpillanatokban vizsgáljuk a mozgó pontot. Az erőtvények alapján kiszámoljuk a gyorsulást, amelyet a síkban két adat jellemez: a vízszintes és függőleges gyorsulás: $A(t)$ és $B(t)$. A testet még két adatpár jellemzi: a sebességkoordináták: $U(t)$ és $W(t)$, továbbá a helykoordináták: $X(t)$ és $Y(t)$.³ Két időpont között a test mozgását egyenesvonalú egyenletes mozgással közelítjük. Így a következő rekurziókat használjuk:

$$\begin{aligned} (1) \quad & U(t+h) = U(t) + A(t) \cdot h, \\ (2) \quad & W(t+h) = W(t) + B(t) \cdot h, \quad \text{ahol } h = 1. \\ (3) \quad & X(t+h) = X(t) + U(t) \cdot h, \\ (4) \quad & Y(t+h) = Y(t) + W(t) \cdot h. \end{aligned}$$

Gyakran (3)-ban és (4)-ben $U(t)$ és $W(t)$ helyett $U(t+1)$ -et és $W(t+1)$ -et használjuk.⁴ Ha tehát egy olyan programot írunk, amely kiszámolja az $A(t)$, $B(t)$ gyorsulás-komponenseket a pont helyének és sebességének ismeretében, és ezeket (egyszerűen csak) A, B jelöli, akkor a programunk így néz ki:

```
.....  
100 A=... : B=...      (ez a fizikai törvény!)  
110 U=U+A : W=W+B  
120 X=X+U : Y=Y+W  
130 XN=C*X : YN=C*Y    (normálás)  
140 IF XN<0 OR XN>127 OR YN<0 OR YN>47 THEN 100  
150 SET(XN,YN)         (kirajzolás)  
160 GOTO 100
```

(A ferde hajítás esetén például a következő sort használjuk:

$$100 A = 0 : B = -9,81.)$$

Az előkészítő lépések után tehát a *fenti néhány sor egy végtelen ciklusban kirajzolja a pont pályáját*. A 100 – 120 sorok adják a program „lelkét”. Felhasználjuk, hogy egységnyi időközökben lépünk. A 130 sor arra való, hogy a mozgó pont képét a képernyőn tartsuk. A C konstans megkeresése több módon is történhet, például:

- periodikus, vagy véges ideig tartó mozgásnál meghatározhatjuk $ABS(X)$ és $ABS(Y)$ időbeli maximumait, és ennek megfelelően kell X-et és Y-t leosztanunk.
- Megtehetjük, hogy először a 140 sort kiiktatjuk, a 150 helyére pedig PRINT X, Y-t és egy lassító ciklust teszünk be, és úgy futtatjuk le a programot. Így azonnal látjuk, mennyit kell kicsinyítenünk.

Megjegyzés. A valóságos helyzetek leírása bonyolultabb. Figyelnünk kell például a *kerekítési hibákra* is, illetve az *algoritmus hibájára*, ami abból adódik, hogy két megfigyelt időpont között a mozgást egyenes vonalú egyenletes mozgással helyettesítjük.

*Részlet Simonovits Miklós: Számítástechnika c. most készülő tankönyvéből.

¹ A tankönyvben a rekurziók fogalmát egy korábbi fejezet tárgyalja, itt nem ismertetjük azokat. Elég annyit tudnunk, hogy a továbbiakban megadandó (1)–(4) összefüggések is rekurziók, és hogy a rekurziók különösen alkalmasak számítógépes kezelésre.

² Példáink történetileg is nagyon fontosak. Éppen ezek a csillagászati, ballisztikai számítások „követelték ki” a számítógépet. Megoldásukon a matematika és a fizika legnagyobbjai dolgoztak.

³ Itt kellemesebb lenne az **U** és **V** betűk használata, de **V**-t már lekötöttük az indulósebességre.

⁴ Ha a t időköz elég kicsi, a megfelelő értékek annyira közel esnek egymáshoz, hogy ebben a közelítésben egyenlőnek vehetjük őket.

Kepler törvények

Mit akarunk megfigyelni? Azt, hogy

- a) a *bolygó pályája ellipszis*, melynek egyik fókusza a tömegvonzási centrum,
- b) a *centrumtól távolabb a bolygó mozgása lelassul*: azonos időközökben a sűrűlt terület azonos.

```

5 CLS
10 PRINT "BOLYGÓMOZGÁS, A NAP AZ ORIGÓBAN"
20 PRINT "A FÖLD HELY ES SEBESSÉGKOORDINÁTÁI"
30 PRINT "(X,Y)=";INPUT X,Y
40 PRINT "(U,W)=";INPUT U,W
50 PRINT "GRAVITÁCIÓS KONSTANS";:INPUT C
60 CLS : SET(60,20)
70 R=(X*X+Y*Y)↑1.5
80 A=C/R*X : B=C/R*Y
90 U=U-A : W=W-B
100 X=X+U : Y=Y+W
110 IF ABS(X)>60 OR ABS(Y)>20 THEN
    PRINT@3,INT(X),INT(Y);:GOTO 70
120 SET(X+60,Y+20)
130 GOTO 70
140 REM : JO INDITÁS: ...
    
```

Magyarázat. A program „lelke” a 70–80 sor. Ha r az origótól vett távolság, akkor $r = \sqrt{X^2 + Y^2}$. A $C * (X, Y) = (C * X, C * Y)$ vektor az origóból (X, Y) -ba mutat és $C * r$ hosszúságú. Így az origótól mért távolság négyzetével fordítottan arányos hosszúságú vektor:

$$\frac{C}{r^3} * (X, Y) = \left(\frac{C}{r^3} * X, \frac{C}{r^3} * Y \right)$$

Hogy gyorsítsuk a számolást, $R = r^2$ -et használjuk, így kapjuk az

$$A = C * X/R : B = C * Y/R$$

gyorsulás koordinátákat.

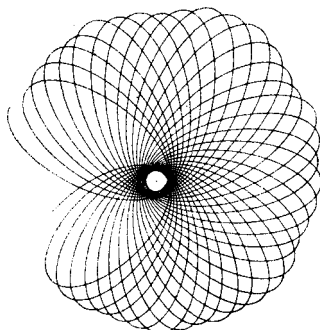
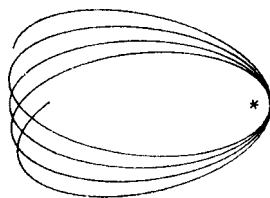
Ezután a program működése már világos. 50-ig tart az INPUT egység, 70–130 a pálya kiszámolása és kirajzolása képvédelemmel, ahogyan azt előzőleg elmagyaráztuk. Ilyen típusú programoknál érdemes az utolsó sorba feljegyezni azokat az adatokat, amelyekkel a program futása biztosított (nem fut ki a kép az ernyőről).

Feladatok

1. Gondoljuk át, mit csinál a 110-es sor!
2. Keressünk olyan W és C értékeket, hogy a $(40,0)$, $(0,W)$, C indulással a program által kirajzolt görbe a képernyőn maradjon!
3. A bolygó energiája két részből áll: a mozgási energiája $\frac{1}{2}mv^2$ ($v^2 = W^2 + U^2$), és a potenciális energiája: $-mC/\text{SQR}(X^2 + Y^2)$.⁵ Nyomtassuk ki a teljes energiát $m = 1$ -re minden lépésben a jobb felső sarokban. Igaznak találjuk-e az energiamegmaradás törvényét?
4. Mit tapasztalunk, ha azt tesszük fel, hogy az erő minden pontban állandó nagyságú, és a centrumba mutató irányú?
5. Ha C -t negatívnak választjuk (például azonos előjelű elektromos töltéseknél), az taszító erőternek felel meg. Ilyenkor hiperbola pályát kapunk. Keressünk megfelelő induló értékeket!
6. Egy párhuzamos fegyverzetű kondenzátor lemezei között egy elektront lövünk keresztül. A lemezek között homogén erőter hat, mely arányos a fegyverzetekre kapcsolt feszültséggel és merőleges a fegyverzetekre. Írjunk programot, amely bemutatja az elektron mozgását a fegyverzetek között, majd amikor kikerült közülük.
7. Írjunk programot, amely az ingamozgást írja le. Vizsgáljuk meg, mennyire állandó a lengésidő különböző nyílásszögű kilengések esetén!⁶
8. Készítsük el az „automatikus mozgásbrázolás” programját: a gép T ideig számolgassa csak a pályát és X, Y maximumát, tegye el az adatokat, majd ebből rajzolja ki a görbe lenormált alakját. T legyen INPUT adat.
9. Ha a bolygómozgás programját többször, különböző adatokkal is kipróbáljuk, észrevehetjük, hogy amikor a bolygó közel kerül a vonzási centrumhoz, akkor a számolási hibák felnövekednek: a bolygó nem egy rögzített ellipszisen fut körbe, hanem egy lassan körbeforduló ellipszisen. Így az alábbi képet kapjuk:

⁵Ha egy tömegvonzási centrum c/R^2 erővel vonz egy testet, akkor ahhoz, hogy a testet „kivigyük a végtelenbe”, c/R munkát kell végeznünk (ezt integrálással lehet bizonyítani). Mivel a helyzeti energia csak konstans erejéig van meghatározva, megállapodhatunk abban, hogy azt a végtelenben 0-nak vesszük. Ha persze az energia a végtelenben 0, akkor (esetünkben) a végesben negatív lesz.


⁶Szokás az inga mozgásának leírásakor a $\sin x \approx x$ közelítést használni. Így az ingamozgást harmonikus rezgőmozgással közelíthetjük. Itt most nem ez a célunk. A periódusidőt mérhetjük stopperrel is, de írhatunk olyan programot is, amely számolja, hány lépésben érünk egyik végpontból a másikba.



Az ilyen mozgásokat „precesszáló mozgásoknak” nevezhetnénk. Növeljük meg a fenti induló adatok mellett a pontosságát a DEFDBL A, B, U, W, X, Y, R segítségével. Mit tapasztalunk?

A ballisztikus görbe

Tudjuk, hogy ha eltekintünk a Föld görbületétől és a légellenállástól, akkor egy ágyúgolyó parabola pályát ír le. Ennek a pályának az egyenletét tanuljuk is, így ezzel nem fogunk foglalkozni. Sokkal nehezebb a lövedék mozgását leírni a légellenállás tekintetbevételeivel – főleg ha még arra is gondolunk, hogy a légellenállás a magassággal változik. Már *Newton* is foglalkozott a problémával, később *Euler* dolgozott ki megfelelő közelítő megoldásokat a ballisztikus röppálya leírására. A matematika még jónéhány kiemelkedő alakja tért vissza erre a kérdésre, köztük *Clairaut*, *d’Alembert*, *Lagrange* és *Laplace* is. A problémát egyebek között az is okozza, hogy a légellenállás csak nagy sebességek esetén közelíthető a sebesség négyzetével arányos erővel.⁷ Hogy a probléma nem csak elméletileg érdekes, azt mutatja az is, hogy az I. világháború elején a német tengerészet kikísérletezett egy nagy kaliberű ágyút, amelyről kipróbálásakor derült csak ki, hogy kb. kétszer olyan messze hord, mint gondolták. Ez azon múlt, hogy nagyobb magasságokban a légellenállás kb. feleakkora, mint talajközelsben.



Az alábbi program nem igényel túl sok magyarázatot. Feltesszük, hogy a légellenállási lassulás: (A, B) a sebesség négyzetével, $R^2 = U^2 + W^2$ -tel arányos, és az arányossági tényező $C = 0,00003$.

⁷Pólya György „Matematikai módszerek a természettudományban” című könyvében bővebben ír erről a kérdéstről. Megemlíti azt is, hogy a tapasztalattal leginkább az van összhangban, ha a légellenállást $v^{1,71}$ -gyel vesszük arányosnak, ahol v a test sebessége.

```

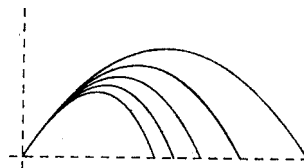
10 CLS : C=0.00003
20 PRINT "FERDE HAJÍTÁS" : PRINT "LÉGELLENÁLLÁSSAL"
30 PRINT "A LÖVEDÉK SEBESSÉGE" : INPUT V
40 PRINT "A LÖVÉS MEREDÉKSÉGE" : INPUT M
50 PRINT "LÉGELLENÁLLÁS" : INPUT C : CLS
60 FOR I=1 TO 126 STEP 3
70 SET(I,45) : NEXT I
80 FOR I=1 TO 47 STEP 2 : SET(0,47-I) : NEXT I
90 REM IDÁIG TARTOTT AZ INPUT ES A KOORDINATA-
TENGELYEK BERAJZOLÁSA, MOST JÖN A SZÁMOLÁS.
100 X=0 : Y=0 : U=V*COS(M) : W=V*SIN(M) (kezdőértékek)
110 R=SQR(U*U+W*W) (a sebességvektor hossza)
120 A=C*U*W : B=C*W*W (a légellenállás!)
130 U=U-A : W=W-B-9.81
140 X=X+U : Y=Y+W
150 IF Y<0 THEN STOP
160 IF Y>4500 THEN GOTO 110
170 SET(X/100,45-Y/100) : GOTO 110
180 REM JÓ ADATOK: V=350,M=1
190 REM A PROGRAM NEVE "BALL"

```

Magyarázat. Az 50 sor kihagyható, hiszen C -nek már adtunk értéket a 10 sorban. Így azonban lehetőségünk van a választásra: ha csak NL-t nyomjuk le, marad $C = 0,00003$, de ha más adatot akarunk beütni, azt is megtehetjük. A 60 – 70 sor az X-tengelyt, a 80 az Y tengelyt nyomtatja. 100 adja meg a kiinduló adatokat. 110 és 120 biztosítja, hogy a légellenállás a sebesség négyzetével legyen arányos. Valóban, (U, W) a sebességvektor, R a hossza. Így $(R * U, R * W)$ ugyanilyen irányú, de a sebesség négyzetével arányos hosszúságú. 130-ban a sor végén a gravitációs gyorsulást látjuk. 150 leállítja a programot, mikor a lövedék a földre csapódik, 160 képvédelem.

Feladatok

1. Módosítsuk a programot úgy, hogy egyetlen koordináta-rendszerben adja meg a lövedék pályáját $C = 0$ -ra, $C = 0,00003$ -ra, $C = 0,00006$ -ra, $C = 0,00009$ -re és $C = 0,00012$ -re. Mit tapasztalunk? Lényegesen befolyásolja-e a lövés hatósugarát a légellenállás növekedése?



2. Módosítsuk a fenti programot úgy, hogy
 - a) a légellenállás $C(Y) = 0,00003/Y$ legyen: a magassággal fordítottan arányos.
 - b) $C(Y)$ a talaj mentén $0,00003$ legyen, 10000 m magasságban 0 , és közben lineárisan változzon.
3. Az előző feladat megoldása után még „intézzük el” azt is, hogy a gép egyszerre rajzolja ki azt a lövedéket, amely konstans $C = 0,00003$ légellenállás hatására mozog, és azt, amely $0,00003$ -tól 0 -ig lineárisan csökkenő $C(Y)$ hatása alatt mozog, ahogyan azt az előző feladat b) pontjában leírtuk.
4. Hogyan módosul a lövedék röppályája, ha a légellenállási tényezőt a sebesség $1,71$ -edik hatványával vesszük arányosnak a sebesség négyzete helyett? Rajzoltassuk ki mind a két pályát egyszerre!
5. A képernyő közepéről adott sebességgel lövedékeket indítunk különböző irányokba. Rajzoltassuk ki a nyomvonalakat abban az esetben, ha a légellenállástól eltekintünk! A nyomvonalak egy parabola alatti területet töltenek ki, a parabolát *burkológörbének* nevezzük.

